



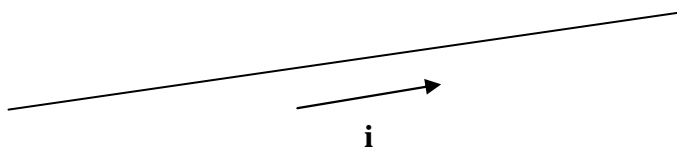
1. Disegna il campo magnetico di una barretta magnetica



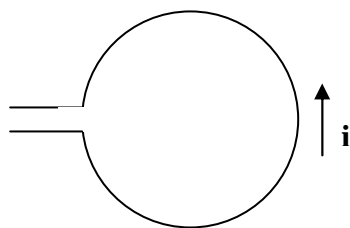
2. Disegna il campo magnetico di una calamita a ferro di cavallo



3. Disegna il campo magnetico di un filo percorso da corrente



4. Disegna il campo magnetico di una spira



5. Disegna il campo magnetico di una bobina (o solenoide)

